

Adı Soyadı:

1. "Geçen kış babamın bana aldığı pantolon kısa geliyor." **diyen Kağan için aşağıdakilerden hangisi söylenebilir?**

A) Yeni beceriler kazanmıştır.
B) Boyu uzamıştır.
C) Kilosu artmıştır.

2. "Yasemin televizyon seyrediyordu.Kapı çalındı.Yasemin kapıyı açınca karşısında Adapazarı'nda oturan dedesini gördü. Oysa Yasemin dedesinin geleceğini bilmiyordu."

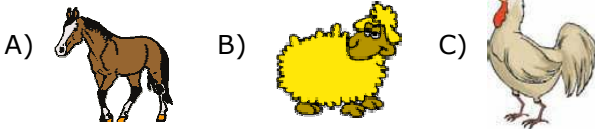
Yukarıdaki anlatım aşağıdakilerden hangisiyle devam ederse Yasemin'in şaşıracağı anlaşılır?

A) Yasemin; "Yaşasın,dedem geldi." dedi.
B) Yasemin; "Hoş geldin dedeciğim." dedi.
C) Yasemin; "Aaa,dedem geldi!" dedi.

3. **29 Ekim günü bayram yapmamızın nedeni aşağıdakilerden hangisidir?**

A) Cumhuriyetimizin kuruluş günü olması
B) TBMM'nin açılış günü olması
C) Mustafa Kemal'in doğum günü olması

4. **Aşağıdakilerden hangisi geçmişte ulaşım aracı olarak kullanılmıştır?**



5. "Teneffüste Kazım,Murat ve Cem kantinde alışveriş yapıyorlardı.Her birinin kantindeki davranışları aşağıda verilmiştir."

Hangisinin davranışı yanlıştır?

A) Murat, sıraya geçip beklemeye başladı.
B) Kazım, alacağı ürüne göre parasını önceden hazırladı.
C) Cem, benim acelem var diyerek öne geçti.

6. "İnsanlar, birbirleriyle haberleşmek, dünyadaki gelişmeleri takip etmek için

Yukarıdaki ifadede boş bırakılan yere hangi sözcük getirilmelidir?

A) ulaşım B) iletişim C) elektrik

7. **Aşağıdakilerden hangisi ulaşımda diğerlerine göre daha hızlıdır?**



8. **Hangisi geçmiş yıllarda yaşamış, anlattığı fıkralarla insanları güldüren ve düşündüren bir Türk kahramanıdır?**

A) Gargamel
B) Karagöz ve Hacivat
C) Nasreddin Hoca

9. "Masanın yüzeyi çok düzgün ve kaygandı. Annem; "Çantayı masanın üzerine yavaş koy,çizilip kırılabilir." dedi." **ifadesine göre anlatılan masa hangi maddeden yapılmış olabilir?**

A) tahta B) cam C) metal

10. **Aileler yedi yaşını dolduran çocuklarını okula göndermektedirler. Ailelerin bu davranışı çocuklarının hangi haklarına saygı duyduğunu göstermektedir?**

A) eğitim B) sağlık C) güvenlik

11. **Haritalarda denizler ve göller hangi renk ile gösterilir?**

A) yeşil B) sarı C) mavi

12. "Melek, arkadaşından okumak için öykü kitabı istemiş. Kitabı eve götürüp masanın üzerine koymuş. O sırada masanın üzerinde bulunan sürahidan su içmek istediğinde suyu kitabın üzerine dökmüş."

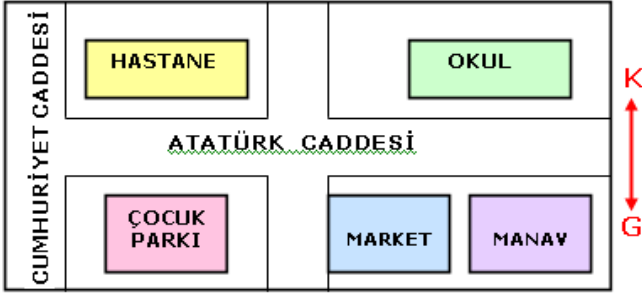
Bu durumda Melek aşağıdakilerden hangisini yapmalıdır?

A) Arkadaşına durumu anlatıp özür dilemeli, yenisini alabileceğini söylemelidir.
B) Arkadaşına kitabı kaybettiğini söyleyip ona yeni bir kitap almalıdır.
C) Kitabı o şekilde arkadaşına verip kendisinin yapmadığını söylemelidir.

13. Dünya' nın hareketleri ile ilgili verilen bilgilerden hangisi yanlıştır?

- A) Dünya' nın kendi eksenini etrafında dönmesi sonucu gece gündüz oluşur.
B) Güneş' in Dünya etrafında dönmesi sonucu mevsimler oluşur.
C) Dünya kendi eksenini etrafındaki dönüşünü 24 saatte tamamlar.

14.



Yukarıdaki krokiye aşağıdaki bilgilerden hangisi yanlıştır?

- A) Çocuk parkı, hastanenin güneyindedir.
B) Manav, çocuk parkının doğusundadır.
C) Okul, hastanenin batısındadır.

15. Çevreyi temiz tutmak için hangisini yapmamalıyız?

- A) Yere yapraklar dökülmesin diye ağaçları kesmeliyiz.
B) Yerlere çöp atmamalıyız.
C) Halkı çevre konusunda bilinçlendirmeliyiz.

16.



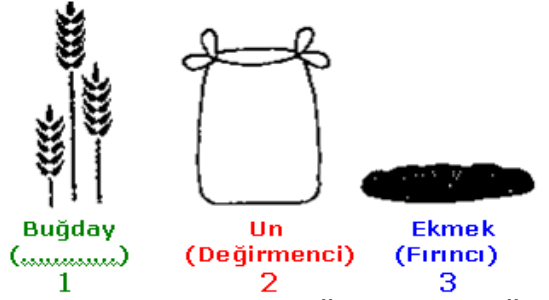
"Yukarıda bir çocuğun arkadaşları ile konuşurken yüzünün aldığı ifadeler gösterilmiştir." **Bu konuşma aşağıdakilerden hangisi olabilir?**

- A) Sınavı kazanamamışsın. Şaka şaka.Sınavda birinci olmuşsun.
B) Sınavı sen kazandın. Ben kazanamadım. Olsun sen kazandın ya.
C) İkimiz de sınavı kazandık.İyi ki kazandık. Zaten sorular çok kolaydı.

17. Aşağıdakilerden hangisi işitsel iletişim aracıdır?

- A) televizyon
B) radyo
C) gazete

18.



Yukarıdaki resimde buğdayın ekmeğe dönüşmesi gösterilmiştir. Buna göre 1 numaralı meslek hangisi olmalıdır?

- A) şoför B) çiftçi C) manav

19. Aşağıdakileri hangisi yaz mevsiminin aylarıdır?

- A) Nisan – Mayıs – Haziran
B) Ağustos – Eylül – Ekim
C) Haziran – Temmuz – Ağustos

20. "Yaşadığımız çevrede " ifadesi hangisi ile tamamlanırsa yanlış olur?

- A) zamanla değişiklikler olur.
B) yıllar içinde hiçbir değişiklik olmaz.
C) bazı yerler zamanla değişebilir.

CEVAP ANAHTARI

1)	(A) (B) (C)	11)	(A) (B) (C)
2)	(A) (B) (C)	12)	(A) (B) (C)
3)	(A) (B) (C)	13)	(A) (B) (C)
4)	(A) (B) (C)	14)	(A) (B) (C)
5)	(A) (B) (C)	15)	(A) (B) (C)
6)	(A) (B) (C)	16)	(A) (B) (C)
7)	(A) (B) (C)	17)	(A) (B) (C)
8)	(A) (B) (C)	18)	(A) (B) (C)
9)	(A) (B) (C)	19)	(A) (B) (C)
10)	(A) (B) (C)	20)	(A) (B) (C)

NOT: Her soru 5 puandır.